

## WPISUJE UCZEŃ

KOD UCZNI

--	--	--

DATA URODZENIA

dzień		miesiąc		rok		

UZUPEŁNIA ZESPÓŁ  
NADZORUJĄCY

miejsce  
na naklejkę  
z kodem

dysleksja

## SPRAWDZIAN W SZÓSTEJ KLASIE SZKOŁY PODSTAWOWEJ *Jabłko*

### Instrukcja dla ucznia

1. Sprawdź, czy zestaw egzaminacyjny zawiera 8 stron. Ewentualny brak stron lub inne usterki zgłoś nauczycielowi.
2. Na tej stronie i na karcie odpowiedzi wpisz swój kod i datę urodzenia.
3. Czytaj uważnie wszystkie teksty i zadania.
4. Rozwiązania zapisuj długopisem albo piórem z czarnym lub granatowym tuszem/atramentem.  
Nie używaj korektora.
5. W zadaniach od 1. do 20. są podane cztery odpowiedzi: A, B, C, D. Odpowiada im następujący układ kratek na karcie odpowiedzi:

A	B	C	D
---	---	---	---

6. Wybierz tylko jedną odpowiedź i zamaluj kratkę z odpowiadającą jej literą – np. gdy wybrałeś odpowiedź „A”:

■	B	C	D
---	---	---	---

6. Staraj się nie popełniać błędów przy zaznaczaniu odpowiedzi, ale jeśli się pomylisz, błędne zaznaczenie otocz kółkiem i zaznacz inną odpowiedź.

⊙ ■	B	C	■
-----	---	---	---

7. Rozwiązania zadań od 21. do 25. zapisz czytelnie i starannie w wyznaczonych miejscach. Pomyłki przekreślaj.
8. Ostatnia strona arkusza jest przeznaczona na brudnopis. Zapisy w brudnopisie nie będą sprawdzane.

**Czas pracy:  
60 minut**

**Liczba punktów  
do uzyskania: 40**

Powodzenia!

S-A1-011



## Jabłko

Żaden owoc nie ma tak starej tradycji jak jabłko. Jabłko było jedynym zakazanym owocem w rajskim ogrodzie.

W mitologii też nie obyło się bez jabłka. Złote jabłko niezgody z napisem „Najpiękniejszej” rzuciła na weselu między biesiadników bogini Eris. Boginie: Hera, Atena i Afrodyta wyciągnęły dłonie, by chwycić owoc. Każda z nich uważała, że tylko jej należy się ten tytuł. Spór miał rozstrzygnąć Parys. Hera obiecała mu władzę, Atena sławę, a Afrodyta najpiękniejszą kobietę za żonę. Rywalizacja zakończyła się zwycięstwem Afrodyty, a spełnienie przez nią obietnicy danej Parysowi stało się przyczyną

wojny trojańskiej, która prawdopodobnie miała miejsce w XII wieku p.n.e. Wydarzenia te opisał w „Iliadzie” Homer. Tytuł dzieła pochodzi od Ilionu – dawnej nazwy Troi. Zwycięstwo w wojnie trojańskiej zawdzięczają greccy wojownicy niezwykle pomysłowi Odyseusza. Zaproponował on zbudowanie drewnianego konia i umieszczenie w jego wnętrzu wojowników, którzy umożliwiliby dostanie się do miasta. Konia zostawiono przed murami Troi w nadziei, że mieszkańcy miasta przyjmą go jako dar dla Ateny. Tak się też stało. Oto co potrafi spowodować jedno jabłko.

Jabłko jest też jednym z symboli władzy królewskiej.

Ojczyzną dzikich gatunków jabłoni są Chiny lub Azja Środkowa. Stamtąd dotarły one do Europy i podbijały po kolei państwa w strefie klimatu umiarkowanego. Taki klimat odpowiada im najbardziej. W tropikach jabłka są niedobre, ponieważ w gorącym klimacie szybko tracą wodę i jędrność.

Jabłko wspaniale działa na krążenie krwi, ułatwia też przyswajanie wapnia przez organizm. Jabłka możemy spożywać przez cały rok pod różnymi postaciami, jednak przetwory z nich, chociaż równie smaczne, nie są już tak wartościowe.

### Zadania od 1. do 10. dotyczą tekstu i mapy.

**Zadanie 1.** Tytuł „Najpiękniejszej” Parys przyznał:

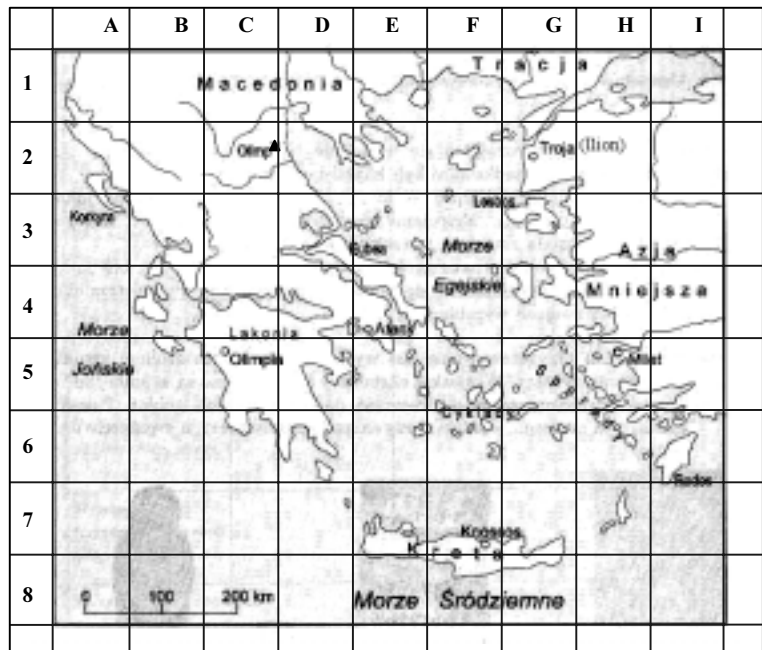
- A. Atenie,                      B. Herze,                      C. Afrodycie,                      D. Eris.

**Zadanie 2.** Konia trojańskiego użyli w walce:

- A. Rzymianie,                      B. Grecy,                      C. Persowie,                      D. Egipcjanie.

**Zadanie 3.** Wyrażenie „koń trojański” w znaczeniu przenośnym oznacza:

- A. podstęp,                      B. wdzięczność,                      C. życzliwość,                      D. tchórzostwo.



**Zadanie 4.** Dzikie gatunki jabłoni pochodzą z kontynentu:

- A. australijskiego, B. afrykańskiego, C. azjatyckiego, D. amerykańskiego.

**Zadanie 5.** Najsmaczniejsze jabłka dojrzewają w strefie klimatu:

- A. podbiegunowego, B. umiarkowanego, C. zwrotnikowego, D. równikowego.

**Zadanie 6.** Najwięcej wartości odżywczych dostarczysz organizmowi, jedząc jabłka:

- A. gotowane, B. pieczone, C. suszone, D. surowe.

**Zadanie 7.** Góra Olimp znajduje się na mapie w kwadracie o współrzędnych:

- A. (C, 5) B. (E, 4) C. (G, 2) D. (C, 2)

**Zadanie 8.** Troja znajduje się od góry Olimp na:


- A. północ, B. południe, C. wschód, D. zachód.

**Zadanie 9.** Na mapie odległość między górą Olimp a Troją wynosi 3,3 cm, więc rzeczywista odległość góry Olimp od Troi wynosi:

- A. 33 km B. 66 km C. 330 km D. 660 km

**Zadanie 10.** Przedstawione na ilustracji berło, jabłko i korona są symbolami władzy:

- A. faraona,  
B. króla,  
C. marszałka,  
D. hetmana.



**Zadanie 11.**

- [1] „Czerwone jabłuszka,  
[2] Żłociste gruszcзки  
[3] Świecą się jak gwiazdy  
[4] Pomiędzy listeczki.”

W cytowanym fragmencie wiersza epitety występują w wersach:

- A. [1] i [2] B. [2] i [3] C. [3] i [4] D. [1] i [4].

**Zadanie 12.** Poetyckie sformułowanie „jabłka na drzewach tańczą” to:

- A. epitet,  
B. przenośnia,  
C. porównanie,  
D. wyrazy dźwiękonaśladowcze.

**Zadanie 13.** W którym szeregu wyrazy zapisano w porządku alfabetycznym?

- A. jabłecznik, jabłko, jabłkowy, jabłuszko;
- B. jabłko, jabłuszko, jabłecznik, jabłkowy;
- C. jabłkowy, jabłuszko, jabłecznik, jabłko;
- D. jabłuszko, jabłkowy, jabłko, jabłecznik.

**Zadanie 14.** Chcąc upiec **jabłecznik**, poszukasz przepisu w książce:

- A. „Domowe przetwory z owoców”,
- B. „Owocowe ciasta i desery”,
- C. „Dżemy i galaretki z owoców”,
- D. „Owoce egzotyczne w potrawach”.

**Zadanie 15.** Przed zjedzeniem należy jabłko umyć, żeby:

- A. nawilżyć skórę,
- B. usunąć warstwę wosku,
- C. usunąć drobnoustroje,
- D. rozpuścić sole mineralne.

**Rozwiązując zadania 16., 17., 18., wykorzystaj dane z tabeli.**

Odmiana jabłek	Termin zbioru jabłek	Dojrzałość jabłek do spożycia	Okres przechowywania do ...
alkmene	IX	IX	XI
mekintosh	IX	X	XII
starting	X	XI	XII
idared	X	I	IV

**Zadanie 16.** Które jabłka można przechowywać co najmniej pół roku od terminu zbioru?

- A. starting,
- B. mekintosh,
- C. alkmene,
- D. idared.

**Zadanie 17.** Odmiana jabłek starting dojrzewa do spożycia:

- A. wiosną,
- B. latem,
- C. jesienią,
- D. zimą.

**Zadanie 18.** Które jabłko nadaje się do spożycia już w trakcie zbioru?

- A. starting,
- B. mekintosh,
- C. idared,
- D. alkmene.

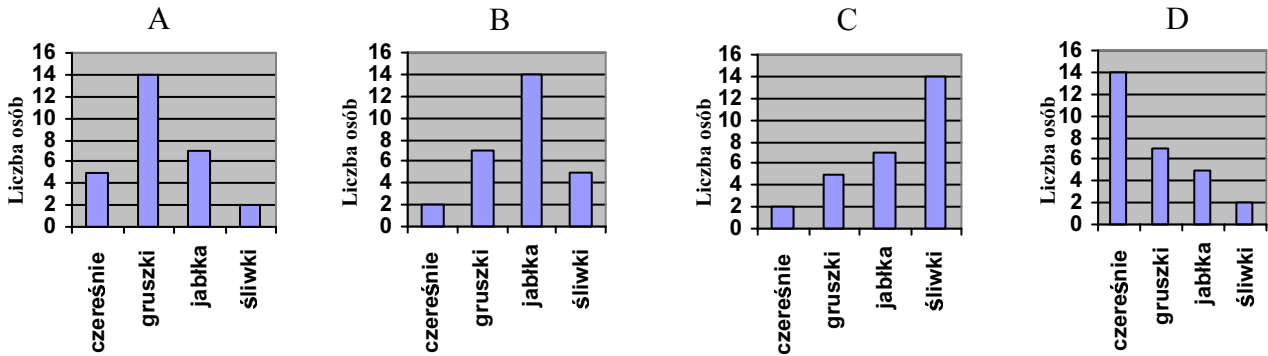
**Zanim rozwiążesz zadania 19. i 20., przeczytaj poniższy tekst.**

Przeprowadzono ankietę. Zapytano 28 osób, jakie owoce lubią najbardziej. Okazało się, że jabłka najbardziej lubi 14 osób, 7 osób woli jeść gruszki, 5 osób najbardziej lubi śliwki, a tylko 2 osoby czereśnie.

**Zadanie 19.** 25% spośród ankietowanych osób lubi:

- A. jabłka,                      B. gruszki,                      C. śliwki,                      D. czereśnie.

**Zadanie 20.** Który diagram przedstawia wyniki przeprowadzonej ankiety?



**Zadanie 21.** Napisz tekst pt. „Warto jeść jabłka”. Zachęcając do jedzenia tych owoców, uwzględnij ich smak i wartości odżywcze.



.....

.....


.....

.....



Oblicz, na ilu metrach kwadratowych powierzchni sadu rosną śliwy.


**Tu zapisz obliczenia:**



Odpowiedź: Śliwy rosną na  etrach kwadratowych powierzchni sadu.

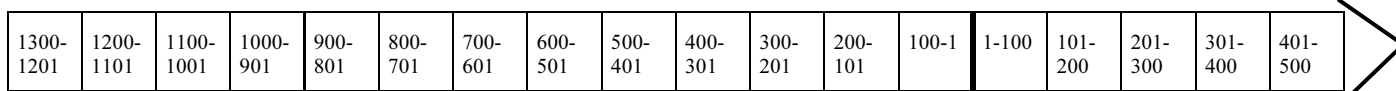
**Zadanie 24.** Zakupiłeś na targu 50 kg jabłek po cenie hurtowej i zapłaciłeś za nie 100 złotych. W sklepie kilogram jabłek tej samej odmiany kosztował 2 zł 60 gr. Oblicz, ile zaoszczędziłeś, kupując jabłka po cenie hurtowej.

**Tu zapisz obliczenia:**



Odpowiedź: Kupując jabłka po cenie hurtowej, zaoszczędziłem

**Zadanie 25.** Zaznacz znakiem X na osi czasu wiek, w którym toczyła się wojna trojańska.



**Brudnopis**